

Asignatura: Geografía

Profesores: María Meza, Alcibíades Martínez

A modo de repaso, el año pasado estuvimos viendo aspectos generales sobre la geografía, como por ejemplo los conceptos de espacio geográfico, el paisaje, urbano y rural, también trabajamos con mapas. En 2° año el continente específico que vamos a estudiar es el continente americano pero antes de empezar a desarrollarlo es importante retomar algunos conceptos.

Espacio geográfico

La noción de espacio geográfico, pues, es utilizada por la geografía para nombrar al espacio organizado por una sociedad. Se trata de una extensión en la que conviven los grupos humanos y se interrelacionan con el medio ambiente.

Se trata de cualquier sitio que sea habitado, modificado o transformado por el ser humano con el objetivo de obtener algún beneficio, de satisfacer nuestras varias necesidades, tales como la alimentación, la vivienda, la vestimenta y el ocio, así como de los resultados de dichas transformaciones a lo largo del tiempo.

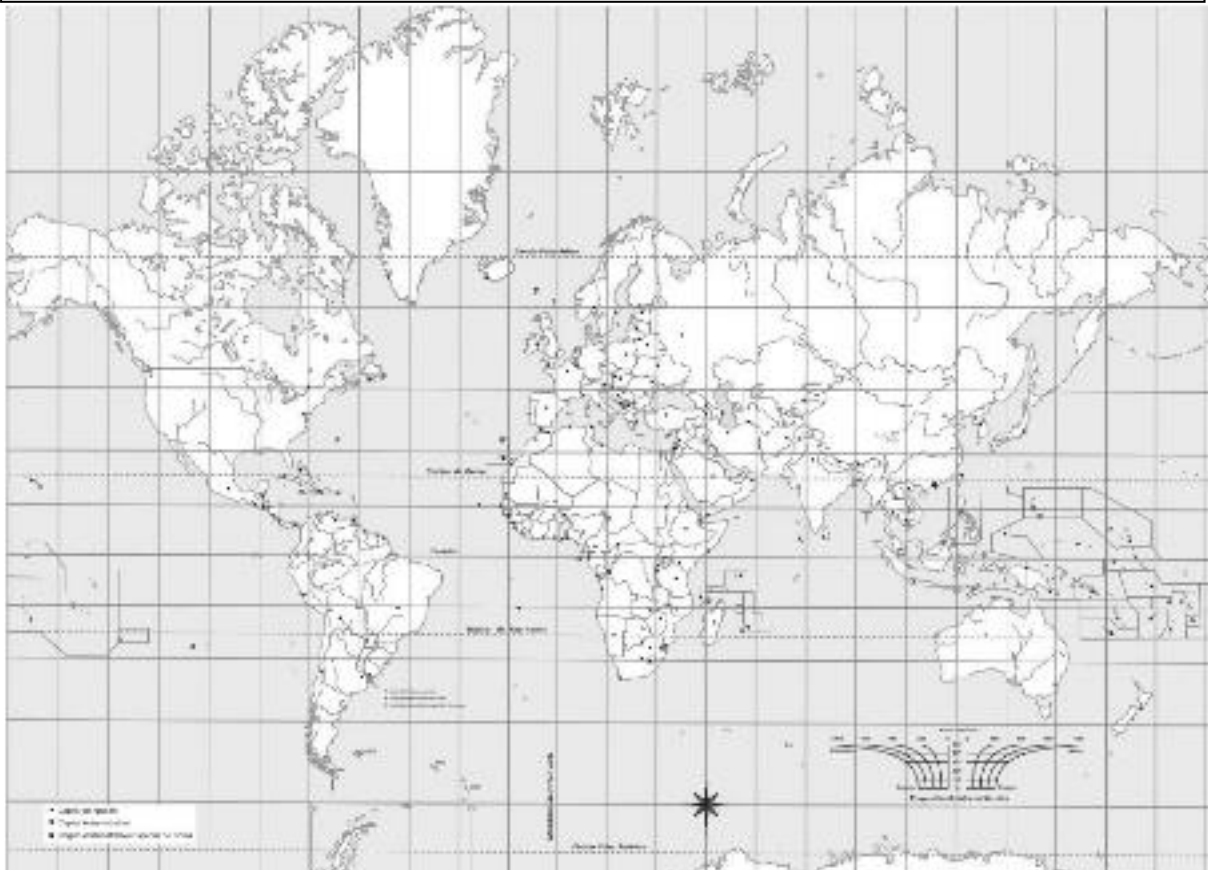
El espacio geográfico es una construcción social que puede estudiarse en sus diversas manifestaciones (como paisaje natural, paisaje urbano, paisaje industrial, etc.).

El espacio geográfico controlado bajo un orden administrativo se conoce como territorio y puede estar conformado por diversas entidades, como municipios, comarcas, provincias o regiones.

Cabe mencionar que para que exista un espacio geográfico debe haber, en primer lugar, un espacio natural que sirva de punto de asentamiento y desarrollo a una sociedad. Con el correr de los años, acciones tales como la tala de árboles, la poda, el desvío de corrientes de agua y la construcción de edificios, entre otras muchas formas en las que el ser humano modifica todo a su paso, el espacio natural se convierte en geográfico..

El espacio geográfico no es algo estático; por el contrario, dada nuestra naturaleza y el hecho de que nunca dejamos de tener necesidades, las transformaciones que en él realizamos son continuas y cambiantes, lo cual responde directamente a la inevitable evolución cultural. Surge a partir de la relación entre dos elementos primordiales para nuestra vida: la naturaleza y la sociedad. Estas dos, a su vez, dan lugar a la economía.

Los elementos naturales son el conjunto de toda creación de la naturaleza, como pueden ser los mares, los ríos, el relieve, la vegetación, las diversas especies animales y las catástrofes naturales; los sociales incluyen los grupos organizados de personas (los pueblos), la religión, la cultura y la política; los económicos son el resultado de la imposición de lo social sobre la naturaleza, y representan la principal causa de modificaciones al espacio natural.



Actividad 1 : en el planisferio colorear el continente americano.



imagen 1



imagen 2



imagen 3



imagen 4

Actividad 2: observen las imágenes, ¿que tipo de espacio es (urbano-rural)? justifiquen su respuesta.

Actividad 3: ¿reconocen alguna imagen? ¿ A qué país se asocia la imagen ?

PRESENTACION DEL CONTINENTE AMERICANO

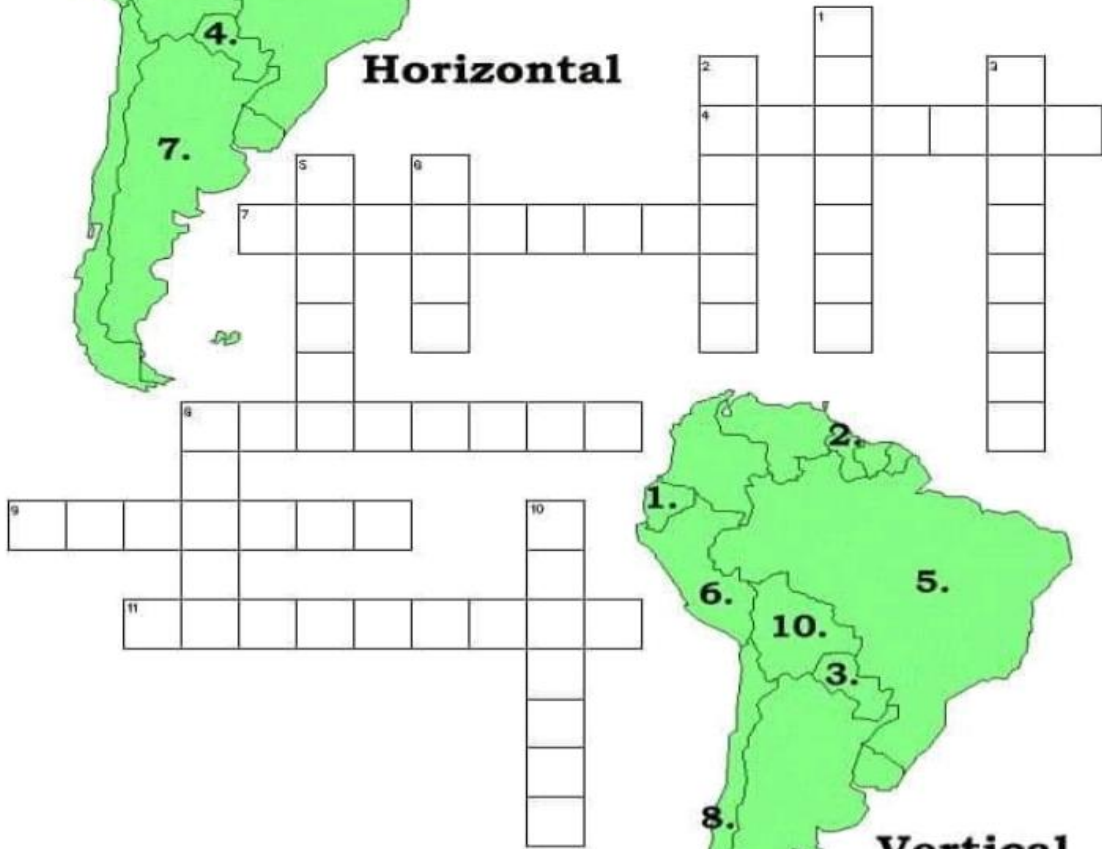
Actividades:

1. ¿Cómo se compone el continente Americano?, ¿Cómo está dividida políticamente? ¿con que otras dominaciones se conoce a América?
2. En un mapa del continente Americano político marcar:
 - ❖ Limites
 - ❖ Océanos y principales mares
 - ❖ División Política
3. Realizar la actividad del mapa de América del Sur



**Mira el mapa,
piensa y escribe el
nombre del país.**

Horizontal



Vertical

América Del Sur

Número 2



- Países:**
 Argentina
 Brazil
 Chile
 Colombia
 Ecuador
 Guayana
 Paraguay
 Perú
 Surinam
 Uruguay
 Venezuela

- Capitales:**
 Asunción
 Bogotá
 Brasilia
 Buenos Aires
 Caracas
 Lima
 Montevideo
 Quito
 Santiago

Andes
 Amazonas



AMERICA: ORIGEN DE SU NOMBRE

El nombre de América se debe a Américo Vespucio, quien visitó estas tierras entre los años 1.499 a 1.501. Realizó varios viajes; primero sirviendo a Portugal, luego a España.

Históricamente se conocen dos viajes: el 1º visitó las costas septentrionales de América del Sur, desde Cabo Branco o Blanco (Brasil) hasta la Península de Guajira (Colombia); el 2º Recorrió hasta Golfo Nuevo (Chubut-Argentina), en cambio otros dicen que solo traspasó el Trópico de Capricornio.

Vespucio escribió relatos dirigidos a la familia Médicis de Italia, que fueron sus protectores, en estas cartas describía: a los nativos, sus costumbres, la flora, fauna, como la desembocadura de los grandes ríos Orinoco y Amazonas. Además, la corriente cálida de las Guayanas, a la vez que se ocupó de las estrellas no visibles del Hemisferio Norte, especialmente la Constelación de la Cruz del Sur.

En Francia, el colegio Vosgiense de Saint Die, encargó al geógrafo Martín Waldseemüller, la actualización de las obras de Ptolomeo, incorporando los nuevos conocimientos. En 1.507, Waldseemüller, publicó la obra "Introducción a la Cosmografía", escrita en latín, donde llama al Nuevo Continente tierras de "Amérigén o Amérigo". Igualmente en el mapa Mural y Globo terráqueo que confeccionó consigna el mismo nombre, pero reservándolo solo para América Central y del Sur; cuyos estudios lo hizo en base a las cartas de Vespucio que habían sido publicadas en latín y luego en varios idiomas.

Con respecto a América del Norte, se tenían dudas acerca de su vinculación con Asia y en cuanto a América Central, se pensaba que poseía estrechos que la separaban de América del Norte y de América del Sur. En cambio, se estableció en forma temprana, por donde terminaba por el sur, América; puesto que primero Magallanes y luego Hoces, pasaron del Atlántico al Pacífico. Hoces, fue un marino Español, quien en 1.526, recorrió el Pasaje que separa América de la Antártica. En 1.579, el Inglés Francisco Drake, repitió el mismo recorrido, por eso la denominación actual de dicho Pasaje.

El mapa confeccionado por Diego de Rivero en 1.529, representa en forma muy acertada a América Central, haciendo figurar su vinculación con América del Norte y América del Sur. Quien designó al Nuevo Continente con el nombre de América, fue el cartógrafo Gerardo Mercator en 1.569 y en 1.570 hizo lo mismo Abraham Ortelius, dividiendo al continente en América del Norte y América del Sur.

En consecuencia la denominación de nuestro continente, se debe a un error histórico, puesto que Américo Vespucio no fue descubridor; sin embargo la toponimia a rendido homenaje a Cristóbal Colón, cuyo nombre encontramos en la "Columbia Británica" (Canadá), en el "Estado de Columbia" (EE.UU.), ciudad de "Colón" (Panamá), en el "Archipiélago de Galápagos o de Colón" (Ecuador), en la "República de Colombia", etc.

POSICION GEOGRAFICA

La característica principal de América, es que se encuentra desarrollada casi integralmente en el Hemisferio Occidental, excepto el extremo Oeste del archipiélago Aleutiano que se interna en el Hemisferio Oriental a los 173º longitud Este.

Tiene una gran amplitud territorial de Norte a Sur, es decir, en sentido de los meridianos, con 15.500 Km. Se extiende como un gran puente entre, el Océano Glacial Ártico y el Mar Glacial Antártico; a su vez separa las cuencas que ocupan los Océanos Atlántico y Pacífico.

El Océano Pacífico, la separa de Asia y Oceanía y el Océano Atlántico de Europa y África; es decir que estamos en presencia de un continente totalmente aislado de los restantes y que posee límites bien definidos, lo que contrasta con otros especialmente, Eurasia.

América, se encuentra rodeada por los Océanos Pacífico y Atlántico, cuyas plataformas no están vinculadas con ningún otro continente; pero no ocurre lo mismo hacia el Norte, donde se comunica con Asia, especialmente con la plataforma del Mar de Bering.

La gran isla de Groenlandia, se encuentra separada tanto de América como de Europa; el Estrecho de Smith, Bahía de Baffin y el Estrecho de Davis, la separan del Archipiélago Polar Americano y la Península del Labrador, tienen todos más de 200 m. de profundidad; mientras que el Mar de Groenlandia y el Estrecho de Dinamarca, la separan de Noruega e Islandia respectivamente. Sin embargo, se la considera parte integrante de este continente, debido a que estructural y morfológicamente es continuación del Escudo Canádico. Políticamente pertenece a Europa (Dinamarca); pero geográficamente, pertenece a América. América y Antártica, se relacionan por intermedio del arco insular de las Antillas Australes, extendidas desde la Isla Grande de Tierra del Fuego hasta la Península Antártica o Tierra de Graham; formadas por las Islas de los Estados y Archipiélagos: Georgias del Sur, Sándwich del Sur, Orcadas del Sur y Shetland del Sur.

En los Océanos, a distancias variables del continente, se encuentran varios grupos de islas que guardan relación con América. En el Océano Pacífico: las Islas Aleutianas, Isla Guadalupe (México), Isla Revilla Gigedo (México), Islas Clipperton (Francia), Islas Cocos (C.R.), Isla Malpelo (Colombia), Islas Galápagos o de Colón (Ecuador), Isla San Félix (Chile), Isla San Ambrosio (Chile) y de Juan Fernández (Chile). En el Océano Atlántico: Islas Bermudas (Gr.Br.), Isla San Pablo (Brasil), Isla Fernando de Noroña (Brasil), Isla Trinidad (Brasil) e Islas Malvinas (Argentina); las dos últimas se encuentran sobre la plataforma submarina, por lo tanto tienen dependencia directa con el continente.

LIMITES

Por el Norte, América limita con el Océano Glacial Ártico; por el Este con el Océano Atlántico, que separa América del Norte con Europa (3.000 Km.) y América del Sur con África (2.000 Km.); por el Sur, el meridiano de Hoorn u Hornos que constituye el límite convencional entre los Océanos Pacífico y Atlántico, allí América se encuentra a menos de 1.000 Km. De la Antártida, de quien la separa el Pasaje de Drake y al Oeste, el Océano Pacífico que separa a América de Asia y Oceanía.

PUNTOS EXTREMOS

Puntos extremos insulares: al Norte, considerando a Groenlandia, el punto más septentrional es el Cabo Morris Jesup a los $83^{\circ} 40'$ latitud Norte en la Tierra de Peary si se excluye a Groenlandia, el punto más septentrional se encuentra en el Archipiélago Polar Americano, el Cabo Columbia a los $83^{\circ} 10'$ latitud Norte en la Tierra de Grant de la Isla Ellesmere, estos puntos solo se encuentran a 700 Km. Del Polo Norte, que corresponde a la zona cuyo clima está influenciado por la alta latitud.

El punto más meridional es el Cabo de Hoorn u Hornos a los $55^{\circ} 58'$ latitud Sur en la Isla del mismo nombre, distando 3.700 Km. Del Polo Sur: esto nos muestra que América Austral, se encuentra al Norte del Círculo Polar Antártico, en contraste con lo que ocurre con América Septentrional.

Al Oeste el punto extremo insular es el Cabo Wrangel a los $172^{\circ} 30'$ longitud Este en la Isla Attu del Archipiélago de las Aleutianas y al Este se encuentra en las Tierras del Rey Cristian a los 10° longitud Oeste en Groenlandia.

Los puntos extremos continentales son: al Norte el Cabo Murchinson a los 72° latitud Norte en la Península de Boothia (Canadá); al Sur el Cabo Froward a los $53^{\circ} 55'$ latitud Sur en la Península de Brunswick (Chile) en el extremo occidental del Estrecho de Magallanes. Esto significa que encontramos en América, la mayor distancia de tierra firme del Mundo, en sentido Norte-Sur.

El extremo continental Oeste es el Cabo Príncipe de Gales a los $168^{\circ} 10'$ longitud Oeste sobre el Estrecho de Bering y al Este el Cabo Branco o Blanco (Brasil) a los $34^{\circ} 46'$ longitud Oeste. La masa continental americana pertenece íntegramente al Hemisferio Occidental, solo llega al Hemisferio Oriental al Extremo Este de las Islas Aleutianas.

América del Norte se encuentra desplazada hacia el Oeste de América del Sur y esta última está más alejada que la anterior de las regiones polares. América del Sur, se encuentra aislada de los demás continentes que América del Norte, puesto que ésta está separada de Asia por el Estrecho de Bering que solo tiene 90 Km.

CIRCULOS O LINEAS ASTRONOMICAS

América se encuentra atravesada por:

- a) El Círculo Polar Ártico a los 66° 33' latitud Norte, que pasa por Alaska, parte septentrional de Canadá y Sur e Groenlandia.
- b) El Trópico de Cáncer a los 23° 27' latitud Norte, recorre el Sur de la Península de California y luego de atravesar la meseta de México y el Golfo de México, sale al Océano Atlántico por el Estrecho de Florida y las Islas Bahamas.
- c) El Ecuador a los 0° de latitud, pasa al Norte de las Islas Galápagos o Colon, atraviesa América del Sur desde la República del Ecuador, donde pasa cerca de su capital: Quito, Sur de Colombia, por la llanura Amazónica y luego llega al Atlántico por el estuario del río Amazonas al Norte de la Isla Marajo.
- d) El Trópico de Capricornio a los 23° 27' latitud Sur, recorre el Norte de Chile, el Norte de nuestro país, centro de Paraguay y Sur de Brasil, pasando cerca de la ciudad de San Pablo, sale al Océano Atlántico al Sur de Río de Janeiro.

El Círculo Polar Antártico, no atraviesa América del Sur.

Más de las dos terceras partes de América quedan comprendidas en el llamado "Hemisferio Continental", la región de mayor actividad humana de la superficie terrestre; el resto que comprende la parte meridional de América del Sur, queda en el llamado "Hemisferio marítimo"

Las divisiones de América

América es un solo continente pero de todos modos es posible efectuar en él varias diferenciaciones mediante la aplicación de distintos criterios.

Desde un **punto de vista geográfico**, América se divide en América del Norte, Central y del Sur. La división entre América del Norte y Central coincide con el límite político entre México, Guatemala y Belice, mientras que el límite entre Panamá y Colombia divide América Central de América del Sur.

También puede establecerse esta división teniendo en cuenta un **criterio geológico**. De esta manera, el límite entre América del Norte y Central se encuentra en el istmo de Tehuantepec, en México. En cambio, el límite entre América Central y del Sur está representado por una línea que se apoya en dos ríos colombianos: el río Atrato, que desemboca en el mar Caribe, y el río San Juan, que desemboca en el océano Pacífico. El arco de islas localizadas en el mar Caribe también forma parte de América Central y

constituye un área del continente con gran complejidad geológica.

Desde un **punto de vista cultural y económico** se pueden diferenciar dos grandes unidades: América anglosajona en la parte septentrional y América latina en la zona meridional. Esta división atiende sobre todo a características culturales, que se ponen de manifiesto en nuestras vidas a través de desigualdades económicas y sociales. Otros tratadistas consideran que América latina está formada por todos los países americanos en vías de desarrollo, es decir, de la periferia del mundo industrializado, independientemente de su lengua y su cultura.

El límite entre estas dos Américas está ubicado en el río Grande, que constituye gran parte del límite internacional entre los Estados Unidos y México. América anglosajona está integrada por Canadá, Groenlandia y los Estados Unidos; el resto de América forma parte de América latina.

La denominación América latina fue acuñada por autores franceses y se impuso en la literatura.



Capítulo 1: América y la representación del espacio

ra internacional. Con respecto al Caribe (o sea, la porción de América constituida por la América Central insular), también conocido como el "Mediterráneo americano", algunos autores lo excluyen y lo consideran una unidad especial. Esto se debe a la gran fragmentación política resultado de las colonizaciones de distintos países europeos: España, Reino Unido, Francia y Holanda. Se destaca por poseer distintas lenguas, influencias culturales y gran porcentaje de mestizos y de población de origen africano.

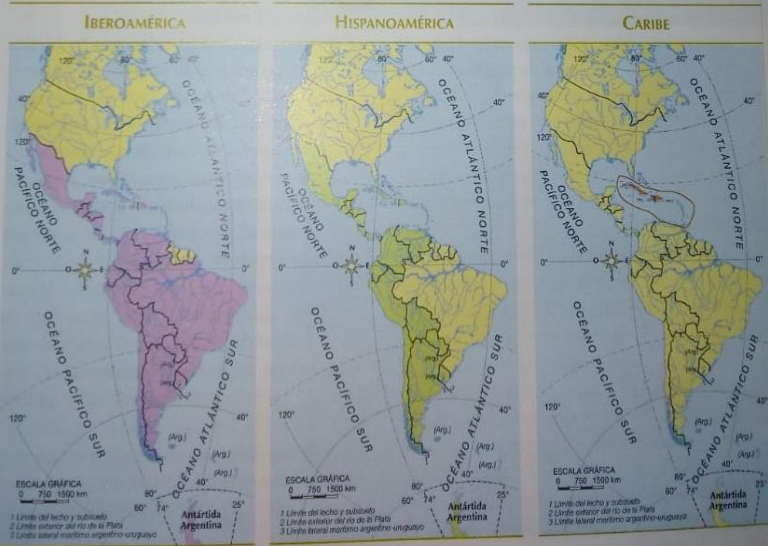
Así como a América anglosajona también se la conoce como la "América pos industrial", la "América del desarrollo" o la "América del primer Mundo", para América latina se propusieron otras denominaciones como "Indoamérica", "Indolatina", "Amerindia" o "América del subdesarrollo". Indoamérica hace referencia a los pueblos indígenas originarios del continente e Indolatina pone de relieve la mezcla entre los pueblos originarios y los europeos. También es válida Iberoamérica, por haber sido colonizada en

su mayor parte por España y Portugal, países que integran la península ibérica en Europa. Por último se la reconoce como Hispanoamérica, en este caso sin el Brasil. Reúne a los países colonizados por España, donde predomina la lengua española que es el idioma oficial.

ACTIVIDAD

- Clasifiquen los siguientes países teniendo en cuenta los distintos criterios utilizados para establecer las divisiones de América. Por ejemplo, desde el punto de vista geográfico, geológico, etcétera.

Perú	Canadá
Guatemala	Argentina
Nicaragua	México
Brasil	Jamaica
Estados Unidos	Venezuela
Cuba	Uruguay



ACTIVIDADES:

1_ ¿A quién se le debe el nombre de América? ¿Por qué?

2_ ¿Cuál es la posición geográfica del Continente Americano? Explique.

A_ Marcar en un mapa político del Continente Americano:

LIMITES con sus respectivas referencias.

PUNTOS EXTREMOS con sus respectivas referencias.

LINEAS ASTRONOMICAS: localizar en el mapa.

3_ DIVISIONES DE AMERICA: explique cada criterio de división del Continente Americano

4_ OBSERVAR LOS MAPAS DE LA BIBLIOGRAFIA PROPUESTA: clasifiquen los siguientes países teniendo en cuenta los distintos criterios utilizados para establecer las divisiones de América. Por ejemplo, desde el punto de vista geográfico, geológico, etc.

PERU GUATEMALA NICARAGUA BRASIL CUBA
ESTADOS UNIDOS CANADA ARGENTINA MEXICO
JAMAICA
VENEZUELA URUGUAY

CRITERIOS DE REGIONALIZACIÓN EN AMÉRICA

Criterio Físico-Estructural: Según este criterio de regionalización, el continente americano se divide en tres sectores: América del Norte: desde Alaska hasta el istmo de Tehuantepec en el sur de México. América Central: el sector continental desde el istmo de Tehuantepec hasta el sur de Panamá, límite con Colombia; y el sector insular comprendido por todas las islas ubicadas en la Región Caribe. América del Sur: desde el noroeste de Colombia hasta Tierra del Fuego en el sur de Argentina. Se fundamenta en la estructura geológica de las placas tectónicas en las que se asienta cada uno de estos sectores y en las formas estructurales que tiene el continente americano.

Criterio Histórico-Cultural: Según este criterio de regionalización, el continente americano se divide en dos sectores: América Anglosajona: Comprende EE.UU. y Canadá América Latina: Comprende desde México hasta el sur de Argentina Se fundamenta en la época de la conquista y colonización del territorio americano. En el año 1607 arribaron colonos de países europeos como los ingleses a América del norte (hoy EE.UU.) y en el año en 1608 colonos franceses a América del norte (hoy Canadá). En América central y del sur durante los años que se sucedieron en el 1500, llegaron conquistadores de países europeos como España y Portugal. Todos ellos en el territorio dejaron asentados aspectos culturales como el idioma y la religión. Francés e inglés con religión protestante en el norte – Español y Portugués con predominio de la religión católica en el sur.

Criterio Socio-Económico: Según este criterio de regionalización, el continente americano se divide en dos sectores: América Desarrollada: Comprende EE.UU. y Canadá América Subdesarrollada: Comprende desde México hasta el sur de Argentina Se fundamenta en el nivel económico que presenta la población. Las condiciones de alto o bajo nivel de industria y tecnología, la mayor o menor calidad de vida de la población con acceso o sin acceso a: educación, trabajo, salud, recreación, vivienda, servicios, alimento, vestimenta. En la presencia de riqueza o pobreza según el caso. En este caso se toman y analizan para su medición indicadores o índices de desarrollo económico/social como el IDH (índice de desarrollo humano).

Actividad:

Leer e interpretar la teoría anterior para luego dar respuestas a las preguntas siguientes:

- 1- ¿Cómo se llaman o denominan los tres criterios/razones diferentes para regionalizar al territorio de América?
- 2- El primer criterio: ¿En qué sectores (sus nombres) divide a América?
- 3- ¿Territorios de que Estados/países abarca cada uno de esos sectores? (Desde que país o zona y hasta que otro zona).
- 4- ¿En que se basa o se fundamenta este criterio para regionalizar de esta manera?

.....

- 5- El segundo criterio: ¿En qué sectores (sus nombres) divide a América?
- 6- ¿Territorios de que Estados/países abarca cada uno de esos sectores? (Desde que país o zona y hasta que otro zona).
- 7- ¿En que se basa o se fundamenta este criterio para regionalizar de esta manera?
.....
- 8- El tercer criterio: ¿En qué sectores (sus nombres) divide a América?
- 9- ¿Territorios de que Estados/países abarca cada uno de esos sectores? (Desde que país o zona y hasta que otro zona).
- 10- ¿En que se basa o se fundamenta este criterio para regionalizar de esta manera?
- 11- Realiza un mapa con cada criterio.

El mapa político de América

1. Observen el mapa político de América y respondan:
 - a. ¿Qué países son atravesados por la línea del Ecuador?
 - b. ¿Qué países están cruzados por el trópico de Capricornio y el trópico de Cáncer?
 - c. ¿Qué países de América no tienen salida al mar?
 - d. ¿Qué países de América tienen costas a tres océanos?
 - e. Enumeren cuatro países que sean bioceánicos.
 - f. ¿En qué países se encuentran los puntos extremos de América?
 - g. ¿Qué países de América del Sur no limitan con el Brasil?
 - h. ¿Qué países tienen el mismo nombre que su capital? ¿En qué América se encuentran teniendo en cuenta todos los criterios de división analizados a lo largo del capítulo?
 - i. ¿Qué países tienen en todo su nombre la misma vocal? ¿En qué América se encuentran teniendo en cuenta todos los criterios de división?

1. Deben descubrir seis países de América siguiendo estas pistas.
¡Adelante! Luego localícenlos en un mapa de América.

A D.....
 B..... E.....
 C..... F.....

- El país A está atravesado por la línea del Ecuador y limita con el país C .
- El país C está al Sur del país B .
- El país E y F forman parte de América Central.
- El país A forma parte de América anglosajona y es el más extenso de América.
- El país F está al Norte del país B y C pero al Sur del país A , D y E .
- El país D forma parte de América del Norte.
- El país C tiene costas al océano Pacífico.
- El país E está en una isla.
- El país B es bioceánico junto con el país D y F .
- El país A tiene costas a tres océanos.
- El país D está atravesado por el trópico de Cáncer y no tiene su capital sobre la costa.
- El país F es el de mayor extensión de América Central Ístmica.
- El país E entra aproximadamente 90 veces en el país A .
- El país C entra aproximadamente 1,5 veces en el país D

